

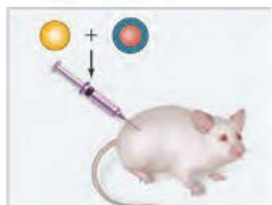
سؤالات امتحان نهایی درس: زیست شناسی (۳)	نام و نام خانوادگی:	تعداد صفحه: ۴	مدت امتحان: ۹۰ دقیقه
پایه دوازدهم دوره دوم متوسطه	تاریخ امتحان: ۱۳۹۹/۴/۱	رشته: علوم تجربی	ساعت شروع: ۸ صبح
دانش آموزان روزانه سراسر کشور در نوبت خرداد ماه سال ۱۳۹۹		مرکز سنجش و پایش کیفیت آموزشی http://ace.medu.ir	

ردیف	سؤالات (پاسخ نامه دارد)	نمره
------	-------------------------	------

الف) بخش الزامی

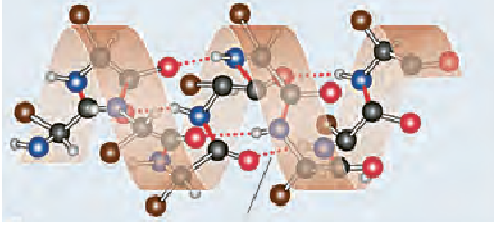
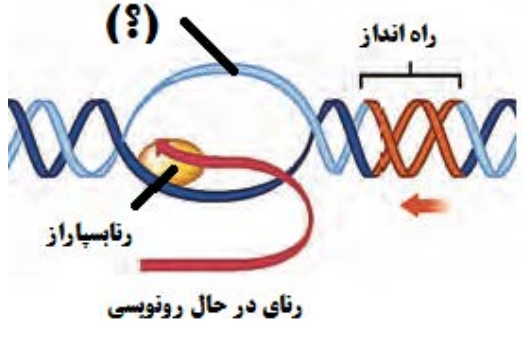
دانش آموز عزیز به سؤالات ۱ تا ۱۸ (جهت کسب ۱۶ نمره پاسخ دهید).

۱	درستی یا نادرستی هر یک از عبارتهای زیر را بدون ذکر دلیل مشخص کنید. الف) در نوکلئیک اسیدهای خطی گروه فسفات در یک انتها و گروه هیدروکسیل در انتهای دیگر آزاد است. ب) پروتئینها از یک یا چند زنجیره بلند و انشعابدار از پلی پپتیدها ساخته شده اند. ج) در رونویسی، نوکلئوتید تیمین دار رنا به عنوان مکمل در برابر نوکلئوتید آدنین دار دنا قرار می گیرد. د) گیاه گل مغربی سه لاد (تریپلوئید) (۳n) یک گیاه زیستا و زایا است. ه) راکیزه (میتوکندری) همراه با یاخته و نیز مستقل از آن تقسیم می شود. و) هر فتوسیستم شامل آنتن گیرنده نور و یک مرکز واکنش است.	۱/۵
۲	در هر یک از عبارتهای زیر جای خالی را با کلمات مناسب پر کنید. الف) در همانندسازی دنا، شکستن پیوند فسفودی استر توسط آنزیم انجام می شود. ب) رنای رونویسی شده از رشته الگو، در ابتدا دارای رونوشت های میانه دنا است. به این رنا، گفته می شود. ج) اگر فردی برای گروه خونی ABO فقط آنزیم A را داشته باشد، گروه خونی این فرد است. د) تخمیر الکلی و تخمیر انواعی از تخمیرند که در صنایع متفاوت از آن ها بهره می بریم. ه) الکترون های حاصل از تجزیه آب، کمبود الکترونی در مرکز واکنش فتوسیستم ۲ را جبران می کنند.	۱/۲۵
۳	در هر یک از عبارتهای زیر، جواب صحیح را از بین کلمات داخل پرانتز انتخاب کنید و در برگه پاسخ نامه بنویسید. الف) دئوکسی ریبوز یک اکسیژن (کمتر - بیشتر) از ریبوز دارد. ب) ژن های سازنده (رنای رناتنی - رنای ناقل) در یاخته های تازه تقسیم شده بسیار فعال اند. ج) در بیماری فنیل کتونوری، آنزیمی که آمینواسید فنیل آلانین را (تجزیه کند - بسازد) وجود ندارد. د) در چلیپایی شدن (کراسینگ اور)، قطعه ای از فام تن بین فامینک های (خواهری - غیرخواهری) مبادله می شود. ه) مولکول حامل الکترون که در قندکافت تشکیل می شود، (NADH - FADH ₂) است. و) سیانوباکتری ها، جزء باکتری های فتوسنتز کننده (اکسیژن زا - غیراکسیژن زا) هستند.	۱/۵
۴	شکل روبرو یکی از آزمایش های گریفیت را نشان می دهد. نتیجه این آزمایش چیست؟ مخلوطی از باکتری های پوشینه دار گشته شده با گرما و فاقد پوشینه	۰/۲۵



سؤالات امتحان نهایی درس: زیست شناسی (۳)	نام و نام خانوادگی:	تعداد صفحه: ۴	مدت امتحان: ۹۰ دقیقه
پایه دوازدهم دوره دوم متوسطه	تاریخ امتحان: ۱۳۹۹/۴/۱	رشته: علوم تجربی	ساعت شروع: ۸ صبح
دانش آموزان روزانه سراسر کشور در نوبت خرداد ماه سال ۱۳۹۹		مرکز سنجش و پایش کیفیت آموزشی http://aee.medu.ir	

ردیف	سؤالات (پاسخ نامه دارد)	نمره
------	-------------------------	------

۵	با توجه به مدل پیشنهادی واتسون و کریک برای دنا، یک نتیجه جفت شدن بازهای مکمل را بنویسید.	۰/۵
۶	شکل روبرو نشان دهنده کدام ساختار پروتئین ها است؟ 	۰/۲۵
۷	علت هر یک از موارد زیر را بنویسید. الف) در یوکاریوت ها، آغاز همانندسازی در چندین نقطه در هر فام تن (کروموزوم) انجام می شود. ب) مواد سمی مانند سیانید یا آرسنیک، مانع فعالیت آنزیم می شوند. ج) عمر RNA پیک (mRNA) در یوکاریوت ها طولانی تر از پروکاریوت ها است.	۱/۲۵
۸	در مورد مراحل ترجمه (پروتئین سازی) به پرسش های زیر پاسخ دهید. الف) اولین رمزه (کدون) که در جایگاه P رناتن (ریبوزوم) قرار می گیرد، دارای چه توالی است؟ ب) در مرحله پایان، چه پروتئین هایی باعث جدا شدن زیرواحدهای رناتن از هم می شود؟	۰/۵
۹	در شکل روبرو (؟) را نام گذاری کنید. 	۰/۲۵
۱۰	در مورد تنظیم بیان ژن در پروکاریوت ها و یوکاریوت ها به پرسش های زیر پاسخ دهید. الف) چرا در تنظیم منفی رونویسی، با اتصال لاکتوز به مهارکننده، این پروتئین دیگر نمی تواند به اپراتور متصل بماند؟ ب) در چه صورت مقدار رونویسی ژن، تحت تأثیر عوامل رونویسی تغییر می کند؟	۰/۷۵
۱۱	رخ نمودهای (فنوتیپ های) زاده های حاصل از آمیزش دو گل میمونی صورتی را با رسم مربع پانت بنویسید.	۱
۱۲	در مورد انتقال اطلاعات در نسل ها به پرسش های زیر پاسخ دهید. الف) اگر گروه خونی زن و شوهری Rh مثبت باشد و گروه خونی یکی از فرزندان آن ها Rh منفی شود، ژن نمود این والدین را بنویسید. ب) چرا در صفات وابسته به X ممکن نیست پدر ناقل باشد؟ ج) در رابطه با رنگ نوعی ذرت، ژن نمود (ژنوتیپ) ذرت های موجود در دو آستانه طیف یعنی قرمز و سفید را بنویسید.	۱/۲۵

مدت امتحان: ۹۰ دقیقه	تعداد صفحه: ۴	نام و نام خانوادگی:	سؤالات امتحان نهایی درس: زیست شناسی (۳)
ساعت شروع: ۸ صبح	رشته: علوم تجربی	تاریخ امتحان: ۱۳۹۹/۴/۱	پایه دوازدهم دوره دوم متوسطه
مرکز سنجش و پایش کیفیت آموزشی http://aee.medu.ir		دانش آموزان روزانه سراسر کشور در نوبت خرداد ماه سال ۱۳۹۹	

ردیف	سؤالات (پاسخ نامه دارد)	نمره						
۱۳	جهش بی معنا را تعریف کنید.	۰/۷۵						
۱۴	در مورد تغییر در اطلاعات وراثتی به پرسش‌های زیر پاسخ دهید. الف) زیست‌شناسان چگونه می‌توانند از وجود ناهنجاری‌های فام‌تنی (کروموزومی) آگاه شوند؟ ب) یک عامل جهش‌زای شیمیایی نام ببرید که در دود سیگار وجود دارد؟ ج) در کدام عامل برهم‌زننده تعادل جمعیت‌ها، رویدادهای تصادفی نقش دارند؟ د) کدام ژن‌نمود بیماری کم‌خونی داسی شکل، به بیماری مالاریا مقاوم است؟ ه) یک مثال برای ساختارهای وستیجیال بنویسید.	۱/۲۵						
۱۵	در مورد روش‌های ساخته شدن ATP به پرسش‌های زیر پاسخ دهید. الف) در روش ساخته شدن ATP در سطح پیش‌ماده در ماهیچه‌ها، مولکول پیش‌ماده چیست؟ ب) ساخته شدن اکسایشی ATP در کدام قسمت یاخته انجام می‌شود؟	۰/۵						
۱۶	در مورد از ماده به انرژی به پرسش‌های زیر پاسخ دهید. الف) در تنفس هوازی، چه فرایندهایی علاوه بر قندکافت (گلیکولیز) باید انجام شوند، تا مولکول گلوکز به مولکول-های CO ₂ تجزیه شود؟ ب) با توجه به نقش غشای درونی راکیزه در تنفس یاخته‌ای، چین خورده بودن آن چه ارزشی برای یاخته دارد؟ ج) چگونه امکان تشکیل رادیکال‌های آزاد از اکسیژن در فرایند تنفس هوازی وجود دارد؟	۱/۵						
۱۷	در مورد از انرژی به ماده به پرسش‌های زیر پاسخ دهید. الف) ساختارهای غشایی و کیسه‌مانند و به هم متصل در فضای درون سبزدیسه (کلروپلاست) چه نام دارد؟ ب) چرا دما بر روی فتوسنتز تأثیرگذار است؟ ج) در تنفس نوری، CO ₂ آزاد شده، حاصل تجزیه مولکول دو کربنی است یا مولکول سه کربنی؟	۱						
۱۸	در جدول زیر، هر یک از ویژگی‌های ذکر شده، مربوط به کدام گروه از گیاهان است؟	۰/۷۵						
	<table border="1"> <tr> <td>تثبیت اولیه کربن در شب</td> <td>«الف»</td> </tr> <tr> <td>تثبیت اولیه کربن در میانبرگ و انجام چرخه کالوین در غلاف آوندی</td> <td>«ب»</td> </tr> <tr> <td>تثبیت کربن فقط با انجام چرخه کالوین</td> <td>«ج»</td> </tr> </table>	تثبیت اولیه کربن در شب	«الف»	تثبیت اولیه کربن در میانبرگ و انجام چرخه کالوین در غلاف آوندی	«ب»	تثبیت کربن فقط با انجام چرخه کالوین	«ج»	
تثبیت اولیه کربن در شب	«الف»							
تثبیت اولیه کربن در میانبرگ و انجام چرخه کالوین در غلاف آوندی	«ب»							
تثبیت کربن فقط با انجام چرخه کالوین	«ج»							

سؤالات امتحان نهایی درس: زیست شناسی (۳)	نام و نام خانوادگی:	تعداد صفحه: ۴	مدت امتحان: ۹۰ دقیقه
پایه دوازدهم دوره دوم متوسطه	تاریخ امتحان: ۱۳۹۹/۴/۱	رشته: علوم تجربی	ساعت شروع: ۸ صبح
دانش آموزان روزانه سراسر کشور در نوبت خرداد ماه سال ۱۳۹۹		مرکز سنجش و پایش کیفیت آموزشی http://aee.medu.ir	

ردیف	سؤالات (پاسخ نامه دارد)	نمره
------	-------------------------	------

بخش انتخابی

دانش آموز عزیز جهت کسب ۴ نمره از سؤالات ۱۹ تا ۲۲ فقط ۲ سؤال را به دلخواه انتخاب کرده و پاسخ دهید.

۱۹	<p>در مورد فناوری‌های نوین زیستی به پرسش‌های زیر پاسخ دهید.</p> <p>الف) به جانداري که از طریق مهندسی ژنتیک دارای ترکیب جدیدی از مواد ژنتیکی شده است، چه می‌گویند؟</p> <p>ب) اجزای دناي نو ترکیب را بنویسید.</p> <p>ج) افزایش پایداری پروتئین در مقابل گرما، با روش‌های مهندسی پروتئین، اهمیت زیادی دارد. دو مورد از اهمیت آن را بنویسید.</p> <p>د) واکسن نو ترکیب ضد هیپاتیت B چگونه تولید می‌شود؟</p>	۲
۲۰	<p>در مورد رفتارهای جانوران به پرسش‌های زیر پاسخ دهید.</p> <p>الف) چرا اساس رفتار غریزی در همه افراد یک گونه یکسان است؟</p> <p>ب) محرک شرطی و محرک طبیعی در آزمایش پاولوف را بنویسید.</p> <p>ج) چرا در نوعی جیرجیرک، جانور نر جفت را انتخاب می‌کند؟</p> <p>د) بعضی طوطی‌ها برای خنثی شدن مواد سمی حاصل از غذاهای گیاهی، چه می‌خورند؟</p> <p>ه) در اجتماع مورچه‌های برگ‌بر، وظیفه مورچه‌های کوچک چیست؟</p> <p>و) رفتار نگهداری و پرورش زاده‌های ملکه که توسط زنبورهای عسل کارگر انجام می‌شود، چه نوع رفتاری است؟</p>	۲
۲۱	<p>به پرسش‌های زیر پاسخ دهید.</p> <p>الف) در یوکاریوت‌ها، دناي سیتوپلاسمی در چه قسمت‌هایی از یاخته دیده می‌شود؟</p> <p>ب) نام بخش اختصاصی آنزیم که پیش ماده در آن قرار می‌گیرد، چیست؟</p> <p>ج) یک تفاوت همانندسازی و رونویسی را بنویسید.</p> <p>د) چگونه ممکن است از یاخته‌هایی با ژن‌های یکسان، یاخته‌هایی با عملکرد و شکل متفاوت ایجاد شوند؟</p> <p>ه) جایگاه ژن‌های گروه خونی ABO در فام‌تن شماره چند است؟</p> <p>و) علت شایع‌ترین نوع هموفیلی چیست؟</p>	۲
۲۲	<p>به پرسش‌های زیر پاسخ دهید.</p> <p>الف) به کل محتوای ماده وراثتی چه می‌گویند؟</p> <p>ب) در چه صورت با شارش ژن، خزانه ژن دو جمعیت به هم شبیه می‌شود؟</p> <p>ج) در زنجیره انتقال الکترون، تنها راه پیش روی پروتون‌ها برای برگشتن به بخش داخلی راکیزه چه پروتئینی است؟</p> <p>د) مقدار ATP تولید شده در ازای تجزیه کامل گلوکز در بهترین شرایط در یاخته یوکاریوت، حداکثر چند ATP است؟</p> <p>ه) مرحله مشترک بین تنفس هوازی و بی‌هوازی چیست؟</p> <p>و) تفاوت آنزیم رویسکو با آنزیمی که در ترکیب CO₂ با اسید سه کربنی در گیاهان C₄ و CAM نقش دارد، چیست؟</p>	۲
۲۴	جمع نمره	«موفق و سربلند باشید»

مدت امتحان: 90 دقیقه	ساعت شروع: 8 صبح	رشته: علوم تجربی	راهنمای تصحیح امتحان نهایی درس: زیست شناسی (3)
تاریخ امتحان: 1399/4/1		پایه دوازدهم دوره دوم متوسطه	
مرکز سنجش و پایش کیفیت آموزشی http://aee.medu.ir		دانش آموزان روزانه سراسر کشور در خرداد ماه سال 1399	

ردیف	راهنمای تصحیح	نمره
1	الف) درست (0/25) (ص 5) ج) نادرست (0/25) (ص 23) ه) درست (0/25) (ص 67) ب) نادرست (0/25) (ص 16) د) نادرست (0/25) (ص 61) و) نادرست (0/25) (ص 80)	1/5
2	الف) دنابسپاراز (0/25) (ص 12) ج) A (0/25) (ص 41) ه) سبزینه (کلروفیل) a (0/25) (ص 83) ب) رنای نابالغ یا اولیه (0/25) (ص 26) د) لاکتیکی (0/25) (ص 73)	1/25
3	الف) کمتر (0/25) (ص 4) ج) تجزیه کند (0/25) (ص 45) ه) NADH (0/25) (ص 66) ب) رنای رناتنی (0/25) (ص 26) د) غیرخواهری (0/25) (ص 56) و) اکسیژنزا (0/25) (ص 89)	1/5
4	موش‌ها مردند. (0/25) (ص 2)	0/25
5	قطر مولکول دنا در سراسر آن یکسان باشد یا شناسایی ترتیب نوکلئوتیدهای هر کدام می‌تواند ترتیب نوکلئوتیدهای رشته دیگر را هم مشخص کند. (0/5) (ص 7)	0/5
6	ساختار دوم (ذکر کلمه مارپیچ نیز صحیح می‌باشد). (0/25) (ص 16)	0/25
7	الف) اگر فقط یک جایگاه آغاز همانندسازی در هر فام تن داشته باشند مدت زمان زیادی برای همانندسازی لازم است. (0/5) (ص 13) ب) سیانید و آرسنیک می‌تواند با قرار گرفتن در جایگاه فعال آنزیم، مانع فعالیت آن شود. (0/25) (ص 19) ج) در این یاخته‌ها سازوکارهایی برای حفاظت رنای پیک در برابر تخریب وجود دارد. (0/5) (ص 32)	1/25
8	الف) AUG (0/25) (ص 30) ب) عوامل آزادکننده (0/25) (ص 31)	0/5
9	رشته رمزگذار (0/25) (ص 24)	0/25
10	الف) لاکتوز با اتصال به مهارکننده، شکل آن را تغییر می‌دهد. (0/25) (ص 34) ب) چون تمایل پیوستن این پروتئین‌ها (0/25) به راه‌انداز در اثر عواملی تغییر می‌کنند (0/25)، مقدار رونویسی ژن آن هم تغییر می‌کند. (ص 35)	0/75
11	گامت‌ها R W RR RW RW WW قرمز (0/25) صورتی (0/25) سفید (0/25)	1

مدت امتحان: 90 دقیقه		ساعت شروع: 8 صبح		رشته: علوم تجربی		راهنمای تصحیح امتحان نهایی درس: زیست شناسی (3)	
تاریخ امتحان: 1399/4/1				پایه دوازدهم دوره دوم متوسطه			
مرکز سنجش و پایش کیفیت آموزشی http://aee.medu.ir				دانش آموزان روزانه سراسر کشور در خرداد ماه سال 1399			
ردیف	راهنمای تصحیح						نمره
12	الف) Dd (0/25) (ص 40) ب) در فام تن Y (0/25) جایگاهی برای دگره‌های ژن‌های وابسته به X وجود ندارد. (0/25) (ص 43) ج) رنگ قرمز AABBCc (0/25) و رنگ سفید aabbcc (0/25) (ص 44)						1/25
13	اگر جهش جانشینی رمز یک آمینواسید (0/25) را به رمز پایان ترجمه تبدیل کند (0/25) که در این صورت پلی پپتید حاصل از آن، کوتاه خواهد شد (0/25) به این جهش، جهش بی‌معنا می‌گویند. (ص 49)						0/75
14	الف) با مشاهده کاربوتیپ (0/25) (ص 50) ب) بنزوپیرن (0/25) (ص 51) ج) رانش دگره‌ای (0/25) (ص 55) د) Hb ^A Hb ^S (0/25) (ص 56) ه) بقایای پا در لگن مار پیتون (0/25) (ص 59)						1/25
15	الف) کرآتین فسفات (0/25) (ص 65) ب) راکیزه (میتوکندری) (0/25) (ص 65)						0/5
16	الف) اکسایش پیرووات (0/25) (ص 68) و چرخه کربس (0/25) (ص 69) ب) چین خوردگی‌ها به افزایش سطح (0/25) و در نتیجه امکان وجود بیشتر زنجیره‌های انتقال الکترون می‌انجامد. (0/25) (ص 70) ج) گاه پیش می‌آید که درصدی از اکسیژن‌ها وارد واکنش تشکیل آب نمی‌شوند، بلکه به صورت رادیکال آزاد درمی‌آیند. (0/5) (ص 75)						1/5
17	الف) تیلاکوئید (0/25) (ص 79) ب) فتوسنتز فرایندی آنزیمی است و می‌دانیم بیشترین فعالیت آنزیم‌ها در گستره دمایی خاص انجام می‌شود. (0/5) (ص 85) ج) مولکول دو کربنی (0/25) (ص 86)						1
18	الف) گیاهان CAM (0/25) (ص 88) ب) گیاهان C ₄ (0/25) (ص 87) ج) گیاهان C ₃ (0/25) (ص 85)						0/75
19	الف) جاندار تغییر یافته ژنتیکی یا تراژنی (0/25) (ص 93) ب) دنای ناقل و ژن جاگذاری شده در آن (0/5) (ص 95) ج) در دمای بالاتر سرعت واکنش بیشتر و خطر آلودگی میکروبی در محیط واکنش کمتر می‌شود. همچنین، نیازی به خنک کردن محیط واکنش به خصوص در مورد واکنش‌های گرمازا نیست. (ذکر دو مورد) (0/5) (ص 97) د) ژن مربوط به پادگین (آنتی ژن) سطحی (0/25) عامل بیماری‌زا (0/25) به یک باکتری یا ویروس غیربیماری‌زا منتقل می‌شود. (0/25) (ص 103)						2

مدت امتحان: 90 دقیقه	ساعت شروع: 8 صبح	رشته: علوم تجربی	راهنمای تصحیح امتحان نهایی درس: زیست شناسی (3)
تاریخ امتحان: 1399/4/1		پایه دوازدهم دوره دوم متوسطه	
مرکز سنجش و پایش کیفیت آموزشی http://aee.medu.ir		دانش آموزان روزانه سراسر کشور در خرداد ماه سال 1399	
ردیف	راهنمای تصحیح		نمره
20	<p>الف) زیراژنی و ارثی است (0/25) ص 109</p> <p>ب) محرک شرطی: صدای زنگ و محرک طبیعی: غذا (0/5) (ص 111)</p> <p>ج) جیرجیرک نر زامه‌های خود را درون کیسه‌های به همراه مقداری مواد مغذی به جانور ماده منتقل می‌کند یا جنس نر هزینه بیشتری برای تولیدمثل می‌پردازد. (0/5) (ص 117)</p> <p>د) خاک رس (0/25) (ص 118)</p> <p>ه) مورچه‌های کوچک‌تر دفاع می‌کنند. (0/25) (ص 122)</p> <p>و) رفتار دگرخواهی (0/25) (ص 122)</p>		2
21	<p>الف) در راکیزه (میتوکندری) و دیسه (پلاست) دیده می‌شود. (0/5) (ص 13)</p> <p>ب) جایگاه فعال (0/25) (ص 19)</p> <p>ج) در رونویسی با توجه به نوکلئوتیدهای رشته دنا، نوکلئوتیدهای مکمل در زنجیره رنا قرار می‌گیرد و به هم متصل می‌شوند. در همانندسازی با توجه به نوکلئوتیدهای رشته دنا، نوکلئوتیدهای مکمل در زنجیره دنا قرار می‌گیرد برخلاف همانندسازی که در هر چرخه یاخته‌ای یک بار انجام می‌شود، رونویسی یک ژن می‌تواند در هر چرخه بارها انجام شود. (ذکر یک مورد) (0/5) (به تفاوت‌های صحیح دیگر نمره تعلق می‌گیرد) (ص 23)</p> <p>د) در هر یاخته تنها تعدادی از ژن‌ها فعال و سایر ژن‌ها غیر فعال هستند. (0/25) (ص 33)</p> <p>ه) در فام تن شماره 9 است. (0/25) (ص 41)</p> <p>و) شایع‌ترین نوع هموفیلی به فقدان عامل انعقادی VIII (هشت) مربوط است. (0/25) (ص 43)</p>		2
22	<p>الف) ژنگان (ژنوم) (0/25) (ص 51)</p> <p>ب) اگر بین دو جمعیت، شارش ژن به طور پیوسته (0/25) و دوسویه ادامه یابد، (0/25) سرانجام خزانه ژن دو جمعیت به هم شبیه می‌شود. (ص 55)</p> <p>ج) آنزیم ATP ساز (0/25) (ص 70)</p> <p>د) ATP 30 (0/25) (ص 72)</p> <p>ه) گلیکولیز (0/25) (ص 73)</p> <p>و) آنزیمی که در ترکیب CO₂ با اسید سه کربنی و تشکیل اسید چهار کربنی نقش دارد، برخلاف روبیسکو به طور اختصاصی با CO₂ عمل می‌کند و تمایلی به اکسیژن ندارد. (0/5) (ص 87)</p>		2
	" در نهایت، نظر همکاران محترم صائب است "		24